

<範圍： 第三章~第四章 >

【劃卡代號：52】

班級：

座號：

姓名：

參考範例：

※答案卡限用 2B 鉛筆劃記，答案請劃記明確；若有劃記錯誤，請擦拭乾淨。分數以電腦讀卡分數為準。

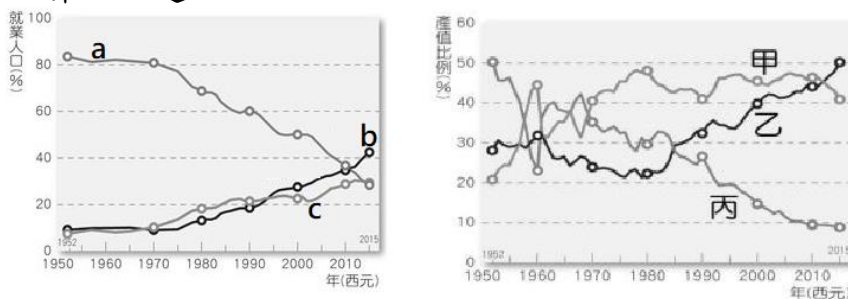
※請作答於答案卷上，考試完畢僅繳交答案卷，請不要填錯格。

一、選擇題(共 30 題，第 1~10 題 4 分，其餘每題 3 分，滿分 100)

1. 中國自古以農立國，大部分人民務農維生，傳統農業受自然環境條件限制大，故區域差異大。下列關於中國各區農業特色的敘述，何者正確？

- (A) 秦嶺、淮河為北水田、南旱田的地理分界
- (B) 溫帶沙漠氣候降水稀少，故無法發展農耕
- (C) 犛牛為藏族食衣住行不可或缺的重要伙伴
- (D) 甘蔗耐寒耐旱，為中國北方重要糧食作物

※下圖左為中國三級產業就業人口比例統計圖，圖右為中國三級產業產值比例統計圖，請根據下圖資料回答第 2~4 題：



2. 圖左三級產業就業人口比例統計與圖右三級產業產值比例的配對，何者正確？

- (A) a-甲，b-乙，c-丙
- (B) a-乙，b-丙，c-甲
- (C) a-丙，b-乙，c-甲
- (D) a-丙，b-甲，c-乙

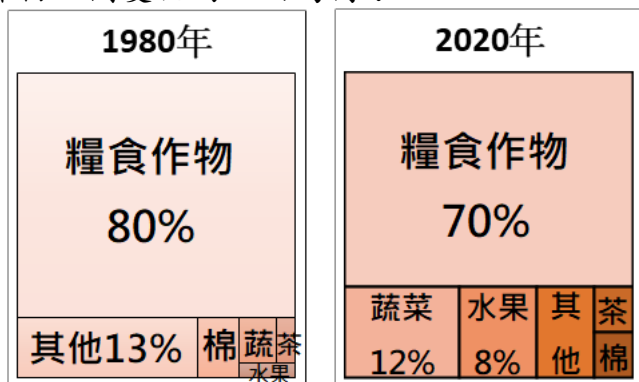
3. 由上圖左可看出中國農業正面臨何種問題？

- (A) 土壤流失沃度下降
- (B) 大量農地轉做他用
- (C) 糧食需求大於供給
- (D) 農村勞力逐年減少

4. 承上題，下列哪項方法最能有效解決上述問題？

- (A) 科技化農業節省人力
- (B) 增加糧食作物生產面積
- (C) 立法管控農地的用途
- (D) 農耕改良維護土壤品質

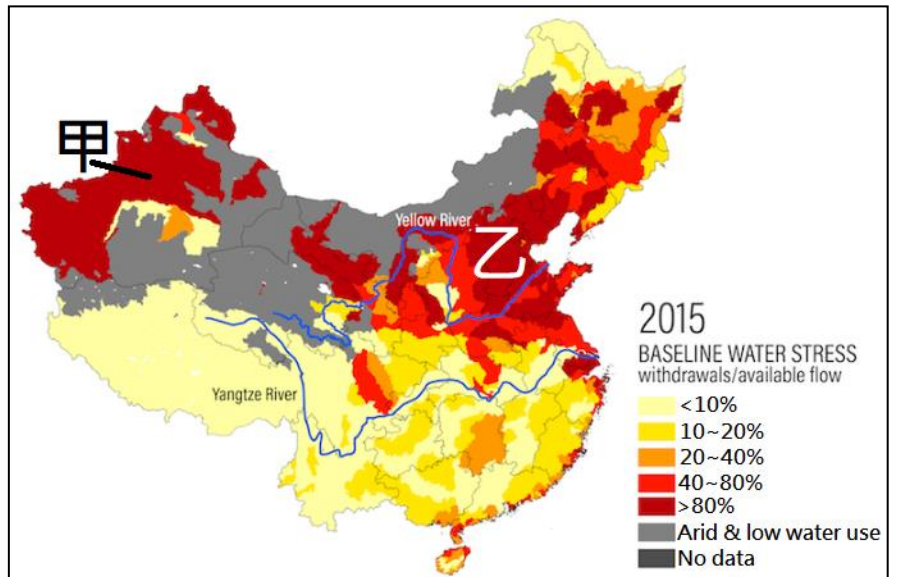
5. 下圖為中國糧食作物栽種面積比例變化圖，造成圖中各作物比例變化的主因為何？



- (A) 農業用水日益短缺
- (B) 消費市場需求改變
- (C) 人口總數逐年減少
- (D) 農村壯年人口外移

※下圖為 2015 年中國水資源壓力基準線圖，請參考下圖回答第 6~8 題：

註：「水資源壓力基準線」為年度總用水量（市政、工業供水、農業用水）佔年度總地表可用水量的百分比。數值愈高代表高度的水資源競爭；數值超過 40% 即為「可用水資源高度缺乏」，超過 80% 則稱為「可用水資源極度缺乏」。



6. 造成圖中甲區缺水的主因為何？ (A) 氣候乾燥

(B) 人口稠密 (C) 工業發達 (D) 地形崎嶇

7. 下列何者是導致圖中乙區水資源問題的主因？

(甲) 人口眾多 (乙) 農工用水需求量大 (丙) 年降水量少於 500mm (丁) 水汙染嚴重

(A) 甲乙丙丁 (B) 甲乙丙 (C) 甲乙丁 (D) 乙丙丁

8. 中國政府正執行哪項工程，以解決圖中所示乙區面臨的水資源問題？ (A) 三峽大壩 (B) 南水北調 (C) 西水東送 (D) 京杭大運河

9. 右圖為 2019 年中國網友自製的非洲豬瘟地圖。根據圖中資訊判斷，影響疫情分布的主因為何？

- (A) 環境汙染
- (B) 氣候暖溼
- (C) 交通便利
- (D) 集約飼養



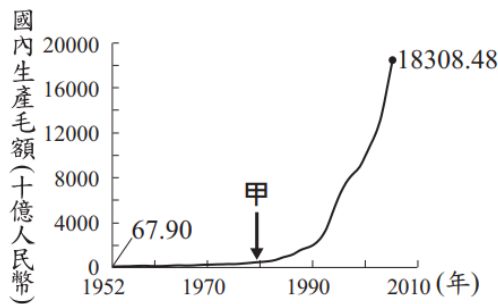
10. 鴻全欲研究「影響中國工商業發展的因素」，蒐集了以下數張中國的主題地圖打算進行疊圖分析，包括：

(甲) 進出口貿易總額變化圖 (乙) 三級產業就業人口比例圖 (丙) 中國礦產分布圖 (丁) 中國鐵路分布圖

(戊) 中國人口分布圖。上列哪幾張圖，最有助於他瞭解自己的研究主題？(註：疊圖分析是指將相同比例尺但不同主題的地圖加以重疊，以找出符合特定需求的地區。)

- (A) 甲乙丙丁戊 (B) 甲丙丁戊 (C) 乙丙丁戊 (D) 丙丁戊

11. 右圖呈現中國 1952 年至 2005 年國內生產毛額的數據資料。圖中曲線從甲處後有明顯變動，最可能的影響因素為何？



- (A) 利用韓戰爆發契機，提高進口關稅 (B) 大躍進提倡生產，舉全國之力煉鋼 (C) 發動文化大革命，改造全民思想 (D) 實施改革開放政策，引進外來資金

※請閱讀下列文章，回答第 12~14 題：

「川普浪潮襲捲世界，全球製造業版圖正在重新洗牌。2016 年底，台灣紡織股王儒鴻關閉在中國最後一家的成衣工廠，原因是招工不易、人力成本逐年提高，生產條件無法跟越南相比。台灣業者、中國本土業者及日本大廠大舉在東南亞國家投資，現階段仍無損中國身為紡織世界工廠的地位。除勞工成本外，是否佈局中國仍要考量交貨時間、產品開發能力、運輸成本等因素。這幾年快時尚當道，供應鏈講求速度，相較於越南，中國從原料、配件、成衣等供應鏈仍較完整。

中國製造已非廉價代名詞，現在反而是中高價的成衣在中國生產，中國本土品牌也發展迅速。中國政府也不再扶持所有外資，而是有策略引進技術密集的產業。中國仍佔台灣紡織品出口市場兩成，尤其在韓國與中國簽訂自由貿易協定之後，台灣跟韓國紡織業的競爭將進入白熱化的階段，因此即使台灣已經把生產基地轉移到東南亞，中國內需也是台灣不可忽略的市場。」

12. 1980 年代始，臺灣紡織業者陸續到中國投資設廠，

- 主因當時中國具有下列哪些工業區位的優勢？
(甲)原料(乙)勞工(丙)市場(丁)政策(戊)交通
(A)甲乙丙 (B)甲乙丁 (C)乙丁戊 (D)丙丁戊

13. 下列何者最適合成為上文的標題？

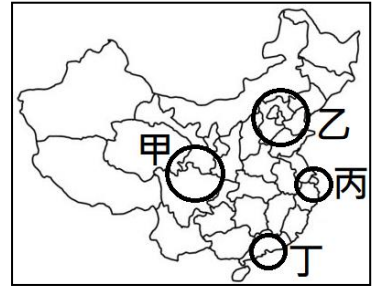
- (A) 中國：是世界工廠也是世界市場 (B) 中國：從吸引外資到對外投資 (C) 見證中國紡織業的辛酸血淚史 (D) 中國政府力圖控制臺灣紡織業

14. 由文中可知，現在的中國政府採取何種作法，以增加其在製造業的競爭力？ (A) 努力降低人力及土地成本 (B) 與他國簽署自由貿易協定 (C) 將紡織產業全面移至東南亞 (D) 支持本土品牌取代國際品牌

15. 京東為紀念每年 6/18 的成立日，也為了與阿里巴巴的「雙 11」競爭而發起「618」購物節，是僅次於「雙 11」的網路購物盛會。網路購物節常提供免運、折扣優惠、抵用券等方式讓消費者有「賺到」的感覺，刺激大量購物的意願，也能成為社交聊天的話題。造成上述現象的主因為何？ (A) 經濟發展接軌國際 (B) 國際資金大量投入 (C) 電子商務蓬勃發展 (D) 內陸運輸網絡密集

※請根據下文及右圖，回答第 16~17 題：

近年中國流行起「反向春運」，改由留在家鄉的父母、小孩往都市移動過年。這種方式除可節省因塞車、擁擠造成的不便，也可順帶讓故鄉家人在都市旅遊，節省車票、機票等開銷。



16. 上述「反向春運」的人口移動方向為何？

- (A) 甲→乙 (B) 乙→丙 (C) 丙→丁 (D) 丁→甲

17. 根據上文，可看出中國正面臨何種問題？

- (A) 內陸運輸不便 (B) 勞力成本上升 (C) 區域發展不均 (D) 人口結構失衡

18. 鴻全與家人來到中國的

★都市度假，感受當地的新年氣氛。他將度假時的所見所聞寫在日記中，哪項記錄「有誤」？ (A) 水、陸、空運輸紐也是中國經濟中心 (B) 能源供應吃緊，需仰賴中、西部輸入 (C) 走訪中國政治中心及高科技產業中心 (D) 天空因沙塵暴及重工業霾害呈現「常態灰」

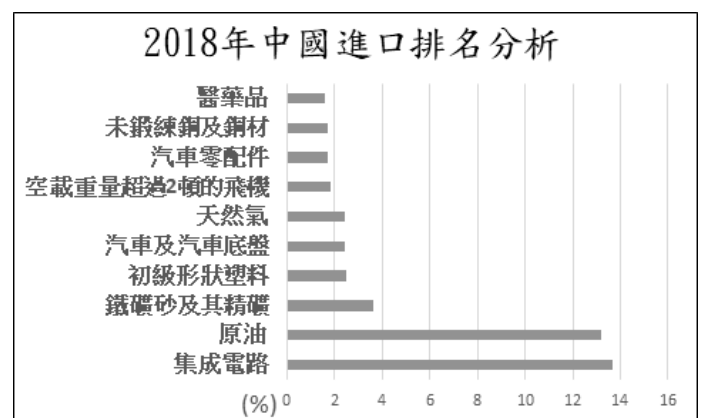


19. 右表為中國 2006 至 2015 年外商投資總額最多和最少的四個行政區。根據表中呈現外商投資的空間差異，下列哪項策略最能改善表中所呈現的問題？

投資總額 前四名	比例 (%)	投資總額 後四名	比例 (%)
江蘇省	18.89	西藏自治區	0.03
廣東省	15.64	青海省	0.11
上海市	13.43	寧夏回族自治區	0.14
浙江省	6.92	新疆維吾爾自治區	0.19

- (A) 複製沿海成功經驗促進中部崛起 (B) 鬆綁戶籍規定，推行居住證制度 (C) 推動三胎化的計畫生育政策 (D) 推動與中亞國家的邊境貿易

20. 中國自 2000 年開始，鼓勵本國企業對外國投資。參考下圖可知，中國最主要想取得國外何種自然資源？(註：集成電路即半導體)



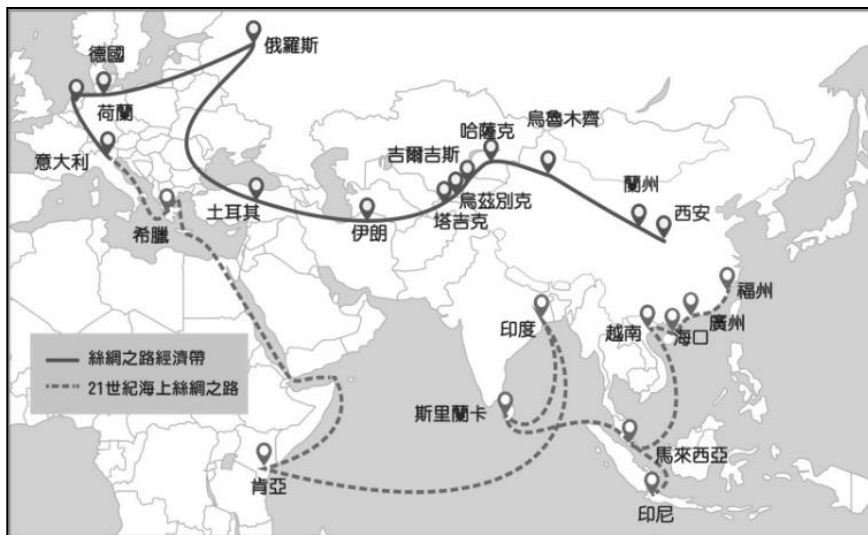
- (A) 半導體 (B) 石油 (C) 鐵礦 (D) 天然氣

21. 華特迪士尼在全球的第六座樂園—上海迪士尼，是亞洲繼東京、香港以後第三個迪士尼樂園，面積卻是亞洲第一。設計理念圍繞著「原汁原味的迪士尼但是具有獨一無二的中國味」。迪士尼在中國就設立了兩座樂園，主因看上中國哪項優勢？

- (A)水電動力充足 (B)人力成本低廉
(C)獨特文化優勢 (D)龐大內需市場

※請參考下文及下圖，並回答第 22~25 題：

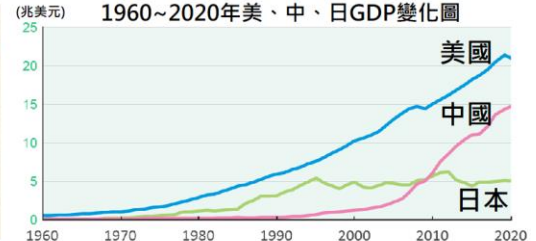
2013 年中國正式提出「一帶一路」計畫，大量資金湧入開發中國家的基礎建設項目，企圖打造數條由中國主導的貿易路線。截至 2021 年為止，全球 165 國家共 13,427 個「一帶一路」建設項目中。然而近年來因為「新冠疫情」和「債務陷阱」兩大因素，許多基礎建設項目陷入停擺。例如 2017 年斯里蘭卡政府因無法償還中國建造漢班托塔港的債務，將該戰略港口以 99 年租約的形式將管理權移交給中國公司，也引起周邊國家的安全疑慮。中國方面也意識到大規模投資單一項目的風險，並開始調整投資方向，轉往貿易、金融、軍事領域的進行合作。



22. 一帶一路沿線「並未」經過下列哪個區域？
(A)美洲 (B)非洲 (C)歐洲 (D)中亞
23. 中國租借斯里蘭卡的港口，將有機會控制鄰近哪塊海域，故引起周邊國家的安全疑慮？
(A)大西洋 (B)地中海 (C)太平洋 (D)印度洋
24. 中國推動一帶一路，是因為可以從中獲取許多經濟效益，下列何者「並非」這些合作為中國帶來的正面效益？
(A)消化中國國內過剩工業產能 (B)提供沿線國家穩定能源供給 (C)擴大貿易市場支持國家經濟發展 (D)參與基礎設施建設提高國際影響力
25. 美國研究員克里曼和他的同事發表了一份報告，指出「一帶一路」項目可能給沿途國家帶來的風險。參與國家可能遭遇的風險「不包括」下列何者？
(A)侵害國家主權 (B)龐大債務負擔 (C)勞動人口外流 (D)負面環境影響

26. 奢侈品是指超出人類生存與發展所需，具有獨特、稀缺、珍奇等特點的消費品，著名品牌如 Chanel、Hermès、Louis Vuitton 等。根據中國奢侈品報告，2021 年中國市場在全球奢侈品市場占比上升到 30%，中國第一次成為全球最大奢侈品市場。下列何圖最適合用以佐證上述報告？

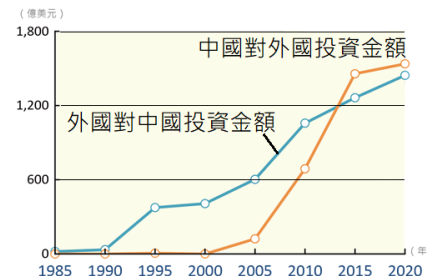
- (A) (B)



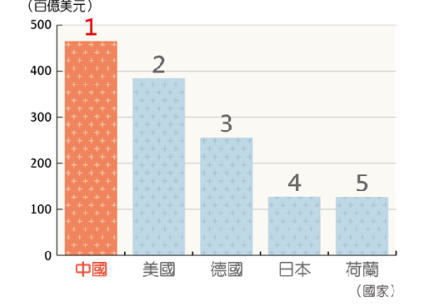
(C) 中國各省區市平均歷年錢地圖

(D) 1960~2020年美、中、日GDP變化圖

中國歷年吸引外資與對外投資統計圖



2020年世界前5大貿易總額國家



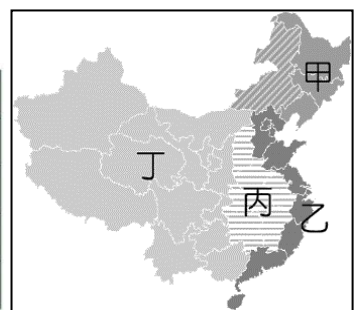
※請閱讀下列文章，回答第 27~28 題：

中國於 2015 年提出「中國製造 2025 計畫」，總體策略是減少對外國進口的依賴。這個政策促使中國企業紛紛進軍半導體產業，並透過收購獲取技術。2014~2018 年中國半導體產業併購交易量，在全球占比從 48% 增至 72%，目的主要是提高市場地位、增加市場占比、尋找新興應用等。

中國聯想集團在 2015 年 5 月以 12.5 億美元收購美國 IBM 的全球 PC 業務；2015 年中國紫光集團開出 230 億美元高價，意圖收購美國 DRAM 大廠美光，最後被美國政府以多項理由擋下。

27. 中國鼓勵本國企業對外投資，大量併購半導體產業，是為了補足該產業目前欠缺的哪項資源？
(A)原料 (B)市場 (C)資金 (D)技術
28. 除了半導體產業，中國還有其它企業跟進政府頒布的「中國製造 2025 計畫」。下列哪個產業類別「並非」中國企業主要發展方向？
(A)航太工業 (B)電動汽車 (C)家電代工 (D)生物醫藥
29. 左下表為中國推行某項建設要達成的政策目標，此一建設應是針對右下圖中何處？
(A)甲 (B)乙 (C)丙 (D)丁

對象	目標
對國內	推動西部大開發
	促進族群的融合
對國外	強化與中亞國家的貿易
	利於歐亞大陸經濟整合



★★ 背面尚有一題 ★★

30. 中國為擴大經濟版圖，積極與各國簽訂自由貿易協定。歷經八年漫長談判，與其它 14 國在 2020 年 11 月 15 日正式簽訂「區域全面經濟夥伴協定」。下列關於「區域全面經濟夥伴協定」的敘述何者正確？
- (A) 為全球人口最多，經濟規模最大的多邊貿易協定
 - (B) 成員包括東南亞國協、日、南韓、澳、紐與臺灣
 - (C) 參與協定的國家享有可向亞投行低利貸款等優惠
 - (D) RCEP 的成員國不得與其它非成員國簽署貿易協定